

जब तक आपको यह प्रश्न-पुस्तिका खोलने को नहीं कहा जाए तब तक न खोलें।

Question Booklet Bar Code Serial No.

प्रश्न-पुस्तिका बार कोड क्रम संख्या

2003314



2023

कोड : YKP-51

विषय : सामान्य अध्ययन

प्रश्न संख्या 1 से 120

समय : 2 घण्टे

पूर्णांक : 120

अपना अनुक्रमांक सामने बॉक्स में  
लिखें

अंकों में

शब्दों में

प्रश्नों के उत्तर के लिए केवल काले बॉल-प्वाइंट पेन का प्रयोग करें।

अभ्यर्थी ओ.एम.आर. उत्तर-पत्रक पर उत्तर देने से पहले सभी  
अनुदेशों को सावधानीपूर्वक पढ़ लें।

अन्तरीक्षक  
के हस्ताक्षर

आपको अपने सभी उत्तर केवल ओ.एम.आर. उत्तर-पत्रक पर ही देने हैं। परीक्षा के उपरान्त ओ.एम.आर. उत्तर-पत्रक अन्तरीक्षक को सौंप  
दें तथा अभ्यर्थी प्रति (नीली) अन्तरीक्षक से प्राप्त कर लें।

### महत्वपूर्ण अनुदेश

1. सभी प्रश्नों के उत्तर दें। सभी प्रश्नों के अंक समान हैं। ओ.एम.आर. उत्तर-पत्रक और प्रश्न-पुस्तिका जिनकी बार कोड क्रम संख्या एकसमान है, सीलड पारदर्शी पॉलीथीन पैकेट के अन्दर एक साथ रखी है।
2. पारदर्शी सीलड पॉलीथीन पैकेट खोलने के तुरन्त बाद, पुनः जाँच करके देख लें कि प्रश्न-पुस्तिका एवं ओ.एम.आर. उत्तर-पत्रक पर मुद्रित बार कोड क्रम संख्या एकसमान हैं तथा सभी पृष्ठ भली-भाँति छपे हुए हैं। यदि प्रश्न-पुस्तिका एवं ओ.एम.आर. उत्तर-पत्रक पर मुद्रित बार कोड क्रम संख्या एकसमान न हों या इसमें अन्य कोई विसंगति हो, तो इसे अन्तरीक्षक को वापस कर प्रश्न-पुस्तिका एवं ओ.एम.आर. उत्तर-पत्रक का दूसरा सीलड पॉलीथीन पैकेट प्राप्त कर लें।
3. अभ्यर्थी प्रश्न-पुस्तिका एवं ओ.एम.आर. उत्तर-पत्रक पर मुद्रित बार कोड क्रम संख्या के एकसमान होने की पुष्टि करने के उपरान्त ही ओ.एम.आर. उत्तर-पत्रक पर अपना सही अनुक्रमांक, विषय एवं विषय कोड निर्धारित स्थान पर अंकित करें, अन्यथा ओ.एम.आर. उत्तर-पत्रक का मूल्यांकन नहीं किया जाएगा और उसकी जिम्मेदारी स्वयं अभ्यर्थी की होगी।
4. अनुक्रमांक के अलावा प्रश्न-पुस्तिका के कवर पेज पर कुछ न लिखें। रफ कार्य के लिए प्रश्न-पुस्तिका के अन्त में दिए गए दो पृष्ठों का प्रयोग करें।
5. इस प्रश्न-पुस्तिका में 120 प्रश्न हैं। प्रत्येक प्रश्न के चार (4) वैकल्पिक उत्तर प्रश्न के नीचे दिए गए हैं। इन चारों में से केवल एक ही सही उत्तर है। जिस उत्तर को आप सही या सबसे उचित समझते हैं, ओ.एम.आर. उत्तर-पत्रक में उसके अक्षर वाले वृत्त को काले बॉल-प्वाइंट पेन से पूरा काला कर दें।
6. इस प्रश्न-पुस्तिका में सभी प्रश्न अंग्रेजी व हिन्दी दोनों भाषाओं में मुद्रित हैं। द्विभाषी (अंग्रेजी/हिन्दी) में किसी भी प्रश्न में अस्पष्टता के मामले में, अंग्रेजी संस्करण प्रभावी होगा।
7. गलत उत्तरों के लिए दण्ड :

ओ.एम.आर. उत्तर-पत्रक में अभ्यर्थी द्वारा दिए गए गलत उत्तरों के लिए दण्ड दिया जाएगा।

- (i) प्रत्येक प्रश्न के लिए चार वैकल्पिक उत्तर हैं। अभ्यर्थी द्वारा प्रत्येक प्रश्न के लिए दिए गए एक गलत उत्तर के लिए प्रश्न हेतु नियत किए गए अंकों का एक-तिहाई दण्ड के रूप में काटा जाएगा।
- (ii) यदि कोई अभ्यर्थी एक से अधिक उत्तर देता है, तो इसे गलत उत्तर माना जाएगा, यद्यपि दिए गए उत्तरों में से एक उत्तर सही होता है, फिर भी उस प्रश्न के लिए उपर्युक्तानुसार ही उसी तरह का दण्ड दिया जाएगा।
- (iii) यदि अभ्यर्थी द्वारा कोई प्रश्न हल नहीं किया जाता है, अर्थात् अभ्यर्थी द्वारा उत्तर नहीं दिया जाता है, तो उस प्रश्न के लिए कोई दण्ड नहीं दिया जाएगा।

नोट : कृपया प्रश्न-पुस्तिका एवं ओ.एम.आर. उत्तर-पत्रक पर मुद्रित बार कोड क्रम संख्या के एकसमान होने की जाँच कर ली जाए तथा बार कोड क्रम संख्या के एकसमान न होने की दशा में उसे बदलकर प्रश्न-पुस्तिका एवं ओ.एम.आर. उत्तर-पत्रक का दूसरा सीलड पॉलीथीन पैकेट प्राप्त कर लिया जाए।

Note : English version of the instructions is printed on the back cover of this Question Booklet.



1. Consider the following statements with reference to Balban's period :

- I. The separate department of Diwan-i-Arz was established during his reign.
- II. He introduced military reforms by paying soldiers their full salaries in cash.

Which of the above statements is/are correct ?

- (a) Neither I nor II      (b) Only II  
(c) Both I and II      (d) Only I

2. The fastest supercomputer in India is :

- (a) Aurora  
(b) AIRAWAT PSAI  
(c) Frontier  
(d) El Capitan

3. Under which programme has Tripura been declared a fully literate state in June 2025 ?

- (a) National Education Policy 2020  
(b) ULLAS – New India Literacy Programme  
(c) Adult Education Programme  
(d) National Literacy Mission

4. Consider the following organisations and arrange these in correct chronological order starting from earliest to the latest :

- I. Bangabhasha Prakasika Sabha
- II. Landholders' Society
- III. Bengal British India Society
- IV. Indian League

Select the correct answer from the code given below :

- (a) II, I, IV, III  
(b) I, II, III, IV  
(c) I, III, IV, II  
(d) IV, III, II, I

1. बलबन के काल के संदर्भ में निम्नलिखित कथनों पर विचार कीजिए :

- I. दीवाने-अर्ज नामक पृथक विभाग की स्थापना उसके काल में हुई।
- II. उसने सैन्य सुधारों के तहत सैनिकों को पूरा वेतन नकद में देने की शुरुआत की।

उपर्युक्त में से कौन-सा/से कथन सही है/हैं ?

- (a) न तो I न ही II      (b) केवल II  
(c) I एवं II दोनों      (d) केवल I

2. भारत में सबसे तेज सुपरकंप्यूटर है :

- (a) एरोरा  
(b) ऐरावत पीएसएआई  
(c) फ्रन्टीयर  
(d) ऐल कैपिटन

3. जून 2025 में, त्रिपुरा को किस कार्यक्रम के अन्तर्गत पूर्ण साक्षर राज्य घोषित किया गया है ?

- (a) राष्ट्रीय शिक्षा नीति 2020  
(b) उल्लास – नव भारत साक्षरता कार्यक्रम  
(c) वयस्क शिक्षा कार्यक्रम  
(d) राष्ट्रीय साक्षरता मिशन

4. निम्नलिखित संगठनों पर विचार कीजिए तथा इन्हें सही कालानुक्रम में व्यवस्थित कीजिए, सबसे पहले से लेकर अंतिम तक :



- I. बंगभाषा प्रकाशिका सभा
- II. लैण्डहोल्डर्स सोसाइटी
- III. बंगाल ब्रिटिश इंडिया सोसाइटी
- IV. इंडियन लीग

नीचे दिए गए कूट में से सही उत्तर का चयन कीजिए :

- (a) II, I, IV, III  
(b) I, II, III, IV  
(c) I, III, IV, II  
(d) IV, III, II, I





5. Arrange the following fractions in descending order :  
 $\frac{5}{9}$ ,  $\frac{4}{7}$  and  $\frac{1}{2}$
- (a)  $\frac{5}{9}$ ,  $\frac{4}{7}$ ,  $\frac{1}{2}$  (b)  $\frac{4}{7}$ ,  $\frac{5}{9}$ ,  $\frac{1}{2}$   
 (c)  $\frac{4}{7}$ ,  $\frac{1}{2}$ ,  $\frac{5}{9}$  (d)  $\frac{1}{2}$ ,  $\frac{4}{7}$ ,  $\frac{5}{9}$  
6. Which of the following statement is **not** true for trans fat ?  
 (a) It lowers HDL (good) cholesterol.  
 (b) It increases the risk of developing heart disease.  
 (c) It raises LDL (bad) cholesterol.  
 (d) It decreases the higher risk of developing Type-2 diabetes.
7. The ODOP Scheme of Uttar Pradesh was launched in which year ?  
 (a) 2018  
 (b) 2017  
 (c) 2015  
 (d) 2019
8. Which of the following is **not** a function of the Election Commission of India ?  
 (a) Conducting elections to the Lok Sabha  
 (b) Conducting elections to the State Legislature  
 (c) Supervising elections of the President and the Vice President  
 (d) Conducting elections to the Gram Panchayat
9. Which district of Uttar Pradesh has the highest population density as per Census 2011 ?  
 (a) Varanasi  
 (b) Kanpur Nagar  
 (c) Ghaziabad  
 (d) Lucknow
5. निम्नलिखित भिन्नो को अवरोही क्रम में व्यवस्थित कीजिए :  
 $\frac{5}{9}$ ,  $\frac{4}{7}$  तथा  $\frac{1}{2}$
- (a)  $\frac{5}{9}$ ,  $\frac{4}{7}$ ,  $\frac{1}{2}$  (b)  $\frac{4}{7}$ ,  $\frac{5}{9}$ ,  $\frac{1}{2}$   
 (c)  $\frac{4}{7}$ ,  $\frac{1}{2}$ ,  $\frac{5}{9}$  (d)  $\frac{1}{2}$ ,  $\frac{4}{7}$ ,  $\frac{5}{9}$
6. ट्रांस फैट के बारे में निम्नलिखित में से कौन-सा कथन सत्य **नहीं** है ?  
 (a) यह एचडीएल कोलेस्टेरॉल (अच्छे) को कम करता है।  
 (b) यह हृदय की बीमारी के खतरे को बढ़ाता है।  
 (c) यह एलडीएल कोलेस्टेरॉल (बुरे) को बढ़ाता है।  
 (d) यह प्रकार-2 डायबिटीज के खतरे को कम करता है।
7. उत्तर प्रदेश में ओडीओपी योजना किस वर्ष में शुरू की गई थी ?  
 (a) 2018  
 (b) 2017  
 (c) 2015  
 (d) 2019
8. निम्नलिखित में से कौन-सा भारत के निर्वाचन आयोग का कार्य **नहीं** है ?  
 (a) लोकसभा के चुनाव कराना.  
 (b) राज्य विधानमंडल के चुनाव कराना.  
 (c) राष्ट्रपति और उप-राष्ट्रपति के चुनाव की देख-रेख करना  
 (d) ग्राम पंचायत का चुनाव कराना
9. 2011 की जनगणना के अनुसार उत्तर प्रदेश के किस जिले का जनसंख्या घनत्व सर्वाधिक है ?  
 (a) वाराणसी  
 (b) कानपुर नगर  
 (c) गाज़ियाबाद  
 (d) लखनऊ 



10. Match List I with List II and select the correct answer using the code given below the lists :

**List I****(Mahajanpada)**

- |            |                       |
|------------|-----------------------|
| A. Kamboja | i. Viratnagar         |
| B. Vatsa   | ii. Indraprastha      |
| C. Kuru    | iii. Rajapura (Hatak) |
| D. Matsya  | iv. Kaushambi         |

**List II****(Capital)****Code :**

- (a) A-iii, B-iv, C-ii, D-i  
 (b) A-iv, B-ii, C-iii, D-i  
 (c) A-i, B-ii, C-iv, D-iii  
 (d) A-ii, B-i, C-iii, D-iv



11. Which of the following is **not** used as a moderator in nuclear reactor ?

- (a) Graphite  
 (b)  $D_2O$   
 (c)  $Al_2O_3$   
 (d)  $H_2O$

12. Match List I with List II and select the correct answer using the code given below the lists :

**List I****(Gland)**

- |                 |                     |
|-----------------|---------------------|
| A. Adrenal      | i. Base of neck     |
| B. Thyroid      | ii. Kidney          |
| C. Pituitary    | iii. Below thalamus |
| D. Hypothalamus | iv. Base of brain   |

**List II****(Location)****Code :**

- (a) A-iii, B-iv, C-i, D-ii  
 (b) A-ii, B-i, C-iv, D-iii  
 (c) A-iv, B-iii, C-ii, D-i  
 (d) A-i, B-ii, C-iii, D-iv

10. सूची I को सूची II से सुमेलित कीजिए तथा सूचियों के नीचे दिए गए कूट का प्रयोग कर सही उत्तर का चयन कीजिए :

**सूची I****(महाजनपद)**

- A. कम्बोज  
 B. वत्स  
 C. कुरु  
 D. मत्स्य

**सूची II****(राजधानी)**

- i. विराटनगर  
 ii. इन्द्रप्रस्थ  
 iii. राजपुर (हाटक)  
 iv. कौशाम्बी

**कूट :**

- (a) A-iii, B-iv, C-ii, D-i  
 (b) A-iv, B-ii, C-iii, D-i  
 (c) A-i, B-ii, C-iv, D-iii  
 (d) A-ii, B-i, C-iii, D-iv

11. नाभिकीय रिएक्टर में मंदक के रूप में निम्नलिखित में से किसका प्रयोग **नहीं** होता है ?

- (a) ग्रेफाइट  
 (b)  $D_2O$   
 (c)  $Al_2O_3$   
 (d)  $H_2O$



12. सूची I को सूची II से सुमेलित कीजिए तथा सूचियों के नीचे दिए गए कूट का प्रयोग कर सही उत्तर का चयन कीजिए :

**सूची I****(ग्रंथि)**

- A. अधिवृक्क  
 B. थाइरॉइड  
 C. पिट्यूटरी  
 D. हाइपोथैलेमस

**सूची II****(स्थान)**

- i. गर्दन का आधार  
 ii. वृक्क  
 iii. थैलेमस के नीचे  
 iv. मस्तिष्क का आधार

**कूट :**

- (a) A-iii, B-iv, C-i, D-ii  
 (b) A-ii, B-i, C-iv, D-iii  
 (c) A-iv, B-iii, C-ii, D-i  
 (d) A-i, B-ii, C-iii, D-iv





13. Which of the following pairs is *not* correctly matched ?

- (a) Blue baby syndrome – Nitrate pollution
- (b) Minamata disease – Mercury pollution
- (c) Itai-Itai disease – Arsenic pollution
- (d) Knock knee syndrome – Fluoride pollution

14. Who among the following advised the Secretary of State for India in January 1947 to transfer power immediately on the basis of Dominion Status ?



- (a) V.P. Menon
- (b) Lord Mountbatten
- (c) Stafford Cripps
- (d) Jawaharlal Nehru

15. Match List I with List II and select the correct answer using the code given below the lists :

**List I**

(River)

- A. Mahanadi
- B. Kaveri
- C. Krishna
- D. Godavari

**List II**

(Place of Origin)

- i. Brahmagiri Hills
- ii. Mahabaleshwar
- iii. Nasik
- iv. Sihawa

**Code :**

- (a) A-iii, B-iv, C-i, D-ii
- (b) A-i, B-iv, C-ii, D-iii
- (c) A-iii, B-iv, C-ii, D-i
- (d) A-iv, B-i, C-ii, D-iii

16. Which state hosted the 'Khelo India Youth Games 2025' ?

- (a) Uttarakhand
- (b) Haryana
- (c) Bihar
- (d) Maharashtra

13. निम्नलिखित में से कौन-सा युग्म सही सुमेलित नहीं है ?

- (a) ब्लू बेबी सिंड्रोम – नाइट्रेट प्रदूषण
- (b) मिनामाटा रोग – मर्करी प्रदूषण
- (c) इटै-इटै रोग – आर्सेनिक प्रदूषण
- (d) नॉक नी सिंड्रोम – फ्लुओराइड प्रदूषण

14. निम्नलिखित में से किसने जनवरी 1947 में भारत के राज्य सचिव को सलाह दी थी कि डोमिनियन स्टेटस के आधार पर तत्काल सत्ता का हस्तांतरण किया जाए ?

- (a) वी.पी. मेनन
- (b) लॉर्ड माउंटबेटन
- (c) स्टैफोर्ड क्रिप्स
- (d) जवाहरलाल नेहरू

15. सूची I को सूची II से सुमेलित कीजिए तथा सूचियों के नीचे दिए गए कूट का प्रयोग कर सही उत्तर का चयन कीजिए :

**सूची I**

(नदी)

- A. महानदी
- B. कावेरी
- C. कृष्णा
- D. गोदावरी

**सूची II**

(उत्पत्ति स्थल)

- i. ब्रह्मगिरि पहाड़ियाँ
- ii. महाबलेश्वर
- iii. नासिक
- iv. सिहावा

**कूट :**

- (a) A-iii, B-iv, C-i, D-ii
- (b) A-i, B-iv, C-ii, D-iii
- (c) A-iii, B-iv, C-ii, D-i
- (d) A-iv, B-i, C-ii, D-iii

16. 'खेलो इंडिया यूथ गेम्स 2025' की मेजबानी किस राज्य ने की ?

- (a) उत्तराखंड
- (b) हरियाणा
- (c) बिहार
- (d) महाराष्ट्र



17. Which of the following statements regarding Fundamental Rights in the Constitution of India are correct ?

- Fundamental Rights are justiciable and enforceable by the courts.
- They can be suspended during a national emergency, except Articles 20 and 21.
- They are absolute and cannot be restricted under any circumstances.
- They cannot be amended.

Select the correct answer using the code given below :

- Only I and II
- Only I, II and IV
- Only I and III
- Only II and III

18. Match List I with List II and select the correct answer using the code given below the lists :

**List I**

**(Ruling Dynasty)**

- Pallavas
- Pandyas
- Yadavas
- Kakatiyas

**List II**

**(Capital)**

- Warangal
- Kanchi
- Madura
- Devagiri

**Code :**

- A-ii, B-iii, C-iv, D-i
- A-i, B-iii, C-iv, D-ii
- A-ii, B-i, C-iv, D-iii
- A-iii, B-iv, C-ii, D-i



17. भारतीय संविधान में उल्लिखित मौलिक अधिकारों के संबंध में निम्नलिखित में से कौन-से कथन सही हैं ?

- मौलिक अधिकार वादयोग्य हैं और न्यायालयों द्वारा प्रवर्तनीय हैं।
- राष्ट्रीय आपातकाल की स्थिति में इनको निलंबित किया जा सकता है, अनुच्छेद 20 तथा 21 को छोड़कर।
- ये पूर्ण हैं और किसी भी परिस्थिति में इन पर प्रतिबंध नहीं लगाया जा सकता।
- इन्हें संशोधित नहीं किया जा सकता।

नीचे दिए गए कूट में से सही उत्तर का चयन कीजिए :

- केवल I और II
- केवल I, II और IV
- केवल I और III
- केवल II और III



18. सूची I को सूची II से सुमेलित कीजिए तथा सूचियों के नीचे दिए गए कूट का प्रयोग कर सही उत्तर का चयन कीजिए :

**सूची I**

**(शासक राजवंश)**

- पल्लव
- पांड्य
- यादव
- काकतीय

**सूची II**

**(राजधानी)**

- वारंगल
- कांची
- मदुरा
- देवगिरि

**कूट :**

- A-ii, B-iii, C-iv, D-i
- A-i, B-iii, C-iv, D-ii
- A-ii, B-i, C-iv, D-iii
- A-iii, B-iv, C-ii, D-i



19. How much money was allocated for education in the Charter Act of 1813 ?

- Ten Lakh rupees monthly
- Five Lakh rupees monthly
- One Lakh rupees monthly
- None of the above

19. 1813 के चार्टर एक्ट में शिक्षा के लिए कितना धन आबंटित करने का प्रावधान किया ?

- दस लाख रुपए मासिक
- पाँच लाख रुपए मासिक
- एक लाख रुपए मासिक
- उपर्युक्त में से कोई नहीं



20. Which of the following freedoms is *not* guaranteed to citizens of India under Article 19 of the Indian Constitution ?
- Freedom to move freely throughout the territory of India
  - Freedom to form associations or unions
  - Freedom to assemble peacefully and without arms
  - Freedom of conscience and right to profess, practice religion
21. Given below are two statements, one labelled as Assertion (A) and the other as Reason (R).
- Assertion (A) :** Eastern Coast has less number of ports and harbours.
- Reason (R) :** Eastern Coast is an example of emergent coast. 
- Select the correct answer from the options given below :
- (A) is false, but (R) is true.
  - Both (A) and (R) are true, but (R) is *not* the correct explanation of (A).
  - (A) is true, but (R) is false.
  - Both (A) and (R) are true and (R) is the correct explanation of (A).
22. Which three officers of the 'Azad Hind Fauj' were tried at the Red Fort in Delhi ?
- Prem Kumar Sahgal, Shah Nawaz Khan, Mohan Singh
  - Prem Kumar Sahgal, Mohan Singh, Rash Behari Bose
  - Prem Kumar Sahgal, Shah Nawaz Khan, Rash Behari Bose
  - Prem Kumar Sahgal, Shah Nawaz Khan, Gurbaksh Singh Dhillon
20. भारतीय संविधान के अनुच्छेद 19 के अन्तर्गत नागरिकों को निम्नलिखित में से कौन-सी स्वतंत्रता प्रदान *नहीं* की गई है ?
- भारत की सीमा में स्वतंत्र रूप से घूमने की स्वतंत्रता
  - संघ या संगठन बनाने की स्वतंत्रता
  - बिना अस्त्र-शस्त्र के शांति से सभा करने की स्वतंत्रता
  - अंतरात्मा (अंतःकरण) की स्वतंत्रता तथा किसी धर्म को मानने, आचरण करने की स्वतंत्रता
21. नीचे दो कथन दिए गए हैं जिनमें से एक को अभिकथन (A) तथा दूसरे को कारण (R) के रूप में अंकित किया गया है।
- अभिकथन (A) :** पूर्वी तट पर पत्तनों एवं बंदरगाहों की संख्या कम है।
- कारण (R) :** पूर्वी तट उन्मज्जी तट का एक उदाहरण है।
- नीचे दिए गए विकल्पों में से सही उत्तर का चयन कीजिए :
- (A) गलत है, परंतु (R) सही है।
  - (A) और (R) दोनों सही हैं, परंतु (R), (A) की सही व्याख्या *नहीं* करता है।
  - (A) सही है, परंतु (R) गलत है।
  - (A) और (R) दोनों सही हैं और (R), (A) की सही व्याख्या करता है। 
22. 'आज़ाद हिंद फौज' के किन तीन अधिकारियों पर दिल्ली के लाल किले में मुकदमा चलाया गया था ?
- प्रेम कुमार सहगल, शाह नवाज़ खान, मोहन सिंह
  - प्रेम कुमार सहगल, मोहन सिंह, रास बिहारी बोस
  - प्रेम कुमार सहगल, शाह नवाज़ खान, रास बिहारी बोस
  - प्रेम कुमार सहगल, शाह नवाज़ खान, गुरबख्श सिंह ढिल्लों





23. Match List I with List II and select the correct answer using the code given below the lists :

**List I****List II**

- |   |               |
|---|---------------|
| A. Central Institute of Buddhist Studies          | i. Leh        |
| B. Central Institute of Higher Tibetan Studies    | ii. Sarnath   |
| C. Central Institute of Himalayan Culture Studies | iii. Dahung   |
| D. Tibet House                                    | iv. New Delhi |

**Code :**

- (a) A-iii, B-iv, C-i, D-ii  
 (b) A-iv, B-i, C-ii, D-iii  
 (c) A-i, B-ii, C-iii, D-iv  
 (d) A-ii, B-iii, C-iv, D-i

24. Which state topped the medal tally at the Khelo India Youth Games 2025 ?

- (a) Rajasthan  
 (b) Haryana  
 (c) Bihar  
 (d) Maharashtra

25. Which two cities in Uttar Pradesh have been selected under the 'HRIDAY' scheme for the development and beautification of heritage sites and infrastructure ?

- (a) Prayagraj and Agra  
 (b) Varanasi and Mathura  
 (c) Varanasi and Agra  
 (d) Mathura and Fatehpur Sikri

26. German silver is an alloy of :

- (a) Copper, Zinc and Lead  
 (b) Copper, Nickel and Zinc  
 (c) Copper, Nickel and Silver  
 (d) Nickel, Lead and Silver

23. सूची I को सूची II से सुमेलित कीजिए तथा सूचियों के नीचे दिए गए कूट का प्रयोग कर सही उत्तर का चयन कीजिए :

**सूची I****सूची II**

- |  |               |
|--|---------------|
| A. केन्द्रीय बौद्ध अध्ययन संस्थान            | i. लेह        |
| B. केन्द्रीय उच्च तिब्बती अध्ययन संस्थान     | ii. सारनाथ    |
| C. केन्द्रीय हिमालयी संस्कृति अध्ययन संस्थान | iii. दाहुंग   |
| D. तिब्बत हाउस                               | iv. नई दिल्ली |

**कूट :**

- (a) A-iii, B-iv, C-i, D-ii  
 (b) A-iv, B-i, C-ii, D-iii  
 (c) A-i, B-ii, C-iii, D-iv  
 (d) A-ii, B-iii, C-iv, D-i

24. खेलो इंडिया यूथ गेम्स 2025 में पदक तालिका में कौन-सा राज्य पहले स्थान पर रहा ?

- (a) राजस्थान  
 (b) हरियाणा  
 (c) बिहार  
 (d) महाराष्ट्र

25. उत्तर प्रदेश के किन दो शहरों को विरासत स्थलों और बुनियादी ढाँचे के विकास और सौंदर्यीकरण के लिए 'हृदय' योजना के अंतर्गत चुना गया है ?

- (a) प्रयागराज और आगरा  
 (b) वाराणसी और मथुरा  
 (c) वाराणसी और आगरा  
 (d) मथुरा और फतेहपुर सीकरी

26. जर्मन सिल्वर एक मिश्रधातु है :

- (a) ताँबा, जस्ता एवं लेड की  
 (b) ताँबा, निकैल एवं जस्ता की  
 (c) ताँबा, निकैल एवं चाँदी की  
 (d) निकैल, लेड एवं चाँदी की



27. Which of the following is the other name for 'relief rainfall' ?

- (a) Frontal rainfall
- (b) Cyclonic rainfall
- (c) Orographic rainfall
- (d) Convectional rainfall



28. Match List I with List II and select the correct answer using the code given below the lists :

List I	List II
A. Pea	i. <i>Cajanus</i>
B. Wheat	ii. <i>Cicer</i>
C. Gram	iii. <i>Pisum</i>
D. Pigeon pea	iv. <i>Triticum</i>

Code :

- (a) A-i, B-ii, C-iii, D-iv
- (b) A-iv, B-iii, C-i, D-ii
- (c) A-iii, B-iv, C-ii, D-i
- (d) A-ii, B-i, C-iii, D-iv

29. If  $\frac{a^2-1}{a} = 2$ , then the value of  $\frac{a^6-1}{a^3}$  is :

- (a) 14
- (b) 13
- (c) 15
- (d) 12

30. Consider the following statements with reference to e-NAM (National Agriculture Market) :

- I. e-NAM was launched in 2016.
- II. It facilitated the integration of Agricultural Produce Market Committees (APMC) mandis.

Which of the above statements is/are correct ?

- (a) Only I
- (b) Both I and II
- (c) Neither I nor II
- (d) Only II

27. निम्नलिखित में से कौन-सा 'स्थलाकृतिक वर्षा' का दूसरा नाम है ?

- (a) वाताग्री वर्षा
- (b) चक्रवाती वर्षा
- (c) पर्वतीय वर्षा
- (d) संवहनीय वर्षा

28. सूची I को सूची II से सुमेलित कीजिए तथा सूचियों के नीचे दिए गए कूट का प्रयोग कर सही उत्तर का चयन कीजिए :

सूची I	सूची II
A. मटर	i. केजेनस
B. गेहूँ	ii. साइसर
C. चना	iii. पाइसम
D. अरहर	iv. ट्रिटिकम

कूट :

- (a) A-i, B-ii, C-iii, D-iv
- (b) A-iv, B-iii, C-i, D-ii
- (c) A-iii, B-iv, C-ii, D-i
- (d) A-ii, B-i, C-iii, D-iv

29. यदि  $\frac{a^2-1}{a} = 2$  है, तो  $\frac{a^6-1}{a^3}$  का मान है :

- (a) 14.
- (b) 13
- (c) 15
- (d) 12

30. ई-नाम (राष्ट्रीय कृषि बाज़ार) के संदर्भ में निम्नलिखित कथनों पर विचार कीजिए :

- I. ई-नाम 2016 में लॉन्च (शुभारम्भ) किया गया।
- II. इसमें कृषि उपज विपणन समिति (APMC) मंडियों के एकीकरण की सुविधा प्रदान की गई है।

उपर्युक्त में से कौन-सा/से कथन सही है/हैं ?

- (a) केवल I
- (b) I एवं II दोनों
- (c) न तो I न ही II
- (d) केवल II



31. Antipyretics are used to :

- (a) Reduce tension
- (b) Reduce pain
- (c) Reduce fever
- (d) Promote sleep

32. Which of the following countries does **not** share a border with Ukraine ?

- (a) Romania
- (b) Slovakia
- (c) Belarus
- (d) Lithuania

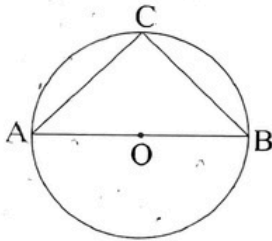
33. Which one of the following is the westernmost hill range of India ?

- (a) Mahadev Hills
- (b) Garhjat Hills
- (c) Ramgarh Hills
- (d) Satmala Hills

34. Which one of the following states is the most urbanised state as per Census 2011 ?

- (a) Maharashtra
- (b) Kerala
- (c) Goa
- (d) Mizoram

35. AOB is the diameter of the circle and  $AC = BC$ , then  $\angle CAB$  is :



- (a)  $45^\circ$
- (b)  $60^\circ$
- (c)  $90^\circ$
- (d)  $30^\circ$

36. Which one of the following Indian states has Thorium resource, derived from Monazite mineral ?

- (a) Madhya Pradesh
- (b) Assam
- (c) Himachal Pradesh
- (d) Kerala

31. एंटीपायरेटिक का प्रयोग होता है :

- (a) तनाव को कम करने में
- (b) दर्द कम करने में
- (c) ज्वर कम करने में
- (d) नींद को बढ़ाने में



32. निम्नलिखित में से कौन-सा देश यूक्रेन के साथ सीमा साझा **नहीं** करता है ?

- (a) रोमानिया
- (b) स्लोवाकिया
- (c) बेलारूस
- (d) लिथुआनिया

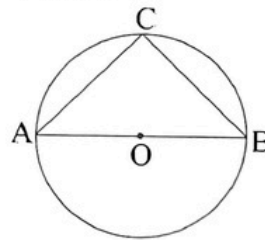
33. निम्नलिखित में से कौन-सी भारत की सबसे पश्चिमी पहाड़ियाँ हैं ?

- (a) महादेव पहाड़ियाँ
- (b) गढ़जात पहाड़ियाँ
- (c) रामगढ़ पहाड़ियाँ
- (d) सतमाला पहाड़ियाँ

34. निम्नलिखित प्रदेशों में कौन-सा प्रदेश 2011 की जनगणना के अनुसार सर्वाधिक नगरीकृत प्रदेश है ?

- (a) महाराष्ट्र
- (b) केरल
- (c) गोवा
- (d) मिज़ोरम

35. एक वृत्त का व्यास AOB है तथा  $AC = BC$  है, तब  $\angle CAB$  है :



- (a)  $45^\circ$
- (b)  $60^\circ$
- (c)  $90^\circ$
- (d)  $30^\circ$

36. निम्नलिखित भारतीय राज्यों में से किसमें मोनाज़ाइट खनिज से थोरियम संसाधन प्राप्त किया जाता है ?

- (a) मध्य प्रदेश
- (b) असम
- (c) हिमाचल प्रदेश
- (d) केरल





37. Which is the largest Scheduled Tribe in Uttar Pradesh ?  
 (a) Buksa (b) Baiga  
 (c) Chero (d) Tharu
38. Which one of the following Union Territories has the maximum percentage of urban population as per Census 2011 ?  
 (a) Delhi  
 (b) Chandigarh  
 (c) Daman and Diu  
 (d) Puducherry
39. The Firozabad glass industry known for bangles, has historically flourished because of the availability of which raw material in nearby regions ?  
 (a) Mica (b) Limestone  
 (c) Feldspar (d) Silica Sand
40. Which scheme has been launched by the Uttar Pradesh Government to simplify access to government support, approvals and other services ?  
 (a) Platinum Card Scheme  
 (b) Ayushman Bharat (PM – JAY) Golden Card  
 (c) Silver Card Scheme  
 (d) Gold Card Scheme
41. Consider the following statements with reference to the Lakhpati Didis :  
 I. The Government has targeted the creation of 3 crore Lakhpati Didis.  
 II. Lakhpati Didis are women with annual earnings of ₹ 1 lakh and more.  
 Which of the above statements is/are correct ?  
 (a) Only II  
 (b) Only I  
 (c) Both I and II  
 (d) Neither I nor II
37. उत्तर प्रदेश की सबसे बड़ी अनुसूचित जनजाति कौन-सी है ?  
 (a) बुक्सा (b) बैगा  
 (c) चैरो (d) थारु
38. 2011 की जनगणना के अनुसार निम्नलिखित में से किस केंद्र शासित प्रदेश की नगरीय जनसंख्या का प्रतिशत सर्वाधिक है ?  
 (a) दिल्ली  
 (b) चंडीगढ़  
 (c) दमन और दीव  
 (d) पुडुचेरी
39. चूड़ियों के लिए प्रसिद्ध फिरोज़ाबाद का काँच उद्योग ऐतिहासिक रूप से आस-पास के क्षेत्रों में किस कच्चे माल के कारण विकसित हुआ ?  
 (a) अभ्रक (b) चूना पत्थर  
 (c) फेल्स्पार (d) सिलिका रेत
40. उत्तर प्रदेश सरकार ने सरकारी सहायता, अनुमोदन और अन्य सेवाओं तक पहुँच को आसान बनाने के लिए कौन-सी योजना शुरू की है ?  
 (a) प्लेटिनम कार्ड योजना  
 (b) आयुष्मान भारत (PM – JAY) गोल्डन कार्ड  
 (c) सिल्वर कार्ड योजना  
 (d) गोल्ड कार्ड योजना
41. लखपति दीदी के संदर्भ में निम्नलिखित कथनों पर विचार कीजिए :  
 I. सरकार ने 3 करोड़ लखपति दीदी बनाने का लक्ष्य रखा है।  
 II. लखपति दीदी ₹ 1 लाख और उससे अधिक की वार्षिक आय वाली महिलाएँ हैं।  
 उपर्युक्त में से कौन-सा/से कथन सही है/हैं ?  
 (a) केवल II  
 (b) केवल I  
 (c) I एवं II दोनों  
 (d) न तो I न ही II



42. Which of the following provisions comes under Part IX of the Indian Constitution ?

- (a) The Panchayats
- (b) Relations between the Union and the States
- (c) Finance, Property, Contracts and Suits
- (d) The Scheduled Areas and the Tribal Areas

43. Arrange the names of the following Pallava rulers according to their reign in chronological order :

- I. Paramesvaravarman I
- II. Narasimhavarman I
- III. Nandivarman II
- IV. Mahendravarman I

Select the correct answer from the code given below :

- (a) IV, III, I, II
- (b) I, III, II, IV
- (c) IV, II, I, III
- (d) III, II, I, IV

44. Brundtland Report is related to :

- (a) Sustainable Development
- (b) Depletion of the Ozone Layer
- (c) Wetlands
- (d) Environmental Impact Assessment

45. Consider the following states :

- I. Tamil Nadu
- II. Maharashtra
- III. Andhra Pradesh
- IV. Uttar Pradesh

Using the code I, II, III and IV as above for the states, arrange the states in ascending order of their percentage of population as per Census 2011.

- (a) IV, III, II, I
- (b) II, IV, I, III
- (c) II, IV, III, I
- (d) III, I, II, IV

42. निम्नलिखित में से कौन-सा प्रावधान भारतीय संविधान के भाग IX के अन्तर्गत आता है ?

- (a) पंचायतें
- (b) संघ और राज्यों के बीच संबंध
- (c) वित्त, सम्पत्ति, संविदाएँ और वाद
- (d) अनुसूचित क्षेत्र और जनजातीय क्षेत्र

43) निम्नलिखित पल्लव शासकों के नामों को उनके शासन के कालक्रमानुसार व्यवस्थित कीजिए :

- I. परमेश्वरवर्मन I
- II. नरसिंहवर्मन I
- III. नन्दिवर्मन II
- IV. महेन्द्रवर्मन I

नीचे दिए गए कूट में से सही उत्तर का चयन कीजिए :

- (a) IV, III, I, II
- (b) I, III, II, IV
- (c) IV, II, I, III
- (d) III, II, I, IV

44. ब्रंडलैंड रिपोर्ट (प्रतिवेदन) इनमें से किससे संबंधित है ?

- (a) सतत विकास
- (b) ओजोन परत का क्षरण
- (c) आर्द्रभूमि
- (d) पर्यावरण प्रभाव आकलन

45. निम्नलिखित प्रदेशों पर विचार कीजिए :

- I. तमिलनाडु
- II. महाराष्ट्र
- III. आंध्र प्रदेश
- IV. उत्तर प्रदेश

प्रदेशों के लिए उपर्युक्त कूट I, II, III और IV का उपयोग करते हुए, राज्यों को 2011 की जनगणना के अनुसार उनकी जनसंख्या के प्रतिशत के आरोही क्रम में व्यवस्थित कीजिए।

- (a) IV, III, II, I
- (b) II, IV, I, III
- (c) II, IV, III, I
- (d) III, I, II, IV



46. Which ruler defeated the Chola King Parantaka-I and built a Victory Pillar and temple at Rameswaram ?

- (a) Govinda III (b) Amoghavarsha  
(c) Indra III (d) Krishna III

47. Consider the following constructions and arrange these in correct chronological order from the oldest to the newest :

- I. Alai Darwaja  
II. Adhai Din ka Jhonpra  
III. Atala Masjid  
IV. Kali Masjid

Select the correct answer from the code given below :

- (a) II, I, IV, III (b) III, I, IV, II  
(c) IV, III, II, I (d) I, III, II, IV

48. Find the number which should come in place of the question mark (?) :

7	4	8
16	10	?
23	14	26



- (a) 18 (b) 26 (c) 22 (d) 34

49. The distance of a chord of length 8 cm from the centre of a circle of radius 5 cm is :

- (a) 2 cm  
(b) 3 cm  
(c) 4 cm  
(d) 6 cm

50. The atoms of the same element having different mass numbers are called :

- (a) Isotones  
(b) Isotopes  
(c) Isobars  
(d) None of the above

46. किस शासक ने चोल राजा परांतक-प्रथम को हराया और रामेश्वरम में एक विजय स्तंभ तथा मंदिर का निर्माण किया ?

- (a) गोविंद तृतीय (b) अमोघवर्ष  
(c) इंद्र तृतीय (d) कृष्ण तृतीय

47. निम्नलिखित निर्माणों पर विचार कीजिए और इन्हें सही कालक्रमानुसार व्यवस्थित कीजिए, सबसे पहले से लेकर अंतिम तक :

- I. अलाई दरवाजा  
II. अढ़ाई दिन का झोपड़ा  
III. अटाला मस्जिद  
IV. काली मस्जिद

नीचे दिए गए कूट में से सही उत्तर का चयन कीजिए :

- (a) II, I, IV, III (b) III, I, IV, II  
(c) IV, III, II, I (d) I, III, II, IV

48. प्रश्न चिह्न (?) के स्थान पर कौन-सी संख्या आनी चाहिए, ज्ञात कीजिए :

7	4	8
16	10	?
23	14	26

- (a) 18 (b) 26 (c) 22 (d) 34

49. एक 8 सेमी लम्बाई की जीवा की, 5 सेमी त्रिज्या वाले वृत्त के केन्द्र से दूरी है :

- (a) 2 सेमी  
(b) 3 सेमी  
(c) 4 सेमी  
(d) 6 सेमी

50. भिन्न द्रव्यमान संख्या वाले समान तत्वों के परमाणु कहलाते हैं :

- (a) आइसोटोन्स  
(b) आइसोटोप्स  
(c) आइसोबार्स  
(d) उपर्युक्त में से कोई नहीं







51. In "Swachh Vayu Sarvekshan 2025", which city secured the top position in the population category below 3 lakh ?

- (a) Alwar
- (b) Jabalpur
- (c) Amravati
- (d) Dewas

52. Which portal has been set up by the Investment Promotion and Facilitation Agency, Invest Uttar Pradesh, for entrepreneur relationship management ?

- (a) Dhan Margdarshak
- (b) Artha Mitra
- (c) Nivesh Sarathi
- (d) Lakshmi Pathik

53. Who among the following has been posthumously honoured by the Padma Bhushan Award 2025 for Public Affairs ?

- (a) Shri Ravichandran Ashwin
- (b) Shri Sushil Kumar Modi
- (c) Shri Vinod Kumar Dham
- (d) Shri S. Ajith Kumar

54. Mormugao, Nhava Sheva, Mazagon are well known for which of the following reasons ?

- (a) Bauxite Mining
- (b) Natural Ports
- (c) Wind Energy Generation
- (d) Ramsar Sites

55. Which of the following is **not** the main objective of 'Namami Gange Programme' in India ?

- (a) Ganga Gram
- (b) Afforestation
- (c) Restricting diesel vehicles in cities
- (d) Riverfront development

51. "स्वच्छ वायु सर्वेक्षण 2025" में किस शहर ने 3 लाख से कम जनसंख्या वाली श्रेणी में शीर्ष स्थान हासिल किया ?

- (a) अलवर,
- (b) जबलपुर
- (c) अमरावती
- (d) देवास .

52. निवेश प्रोत्साहन एवं सुविधा एजेंसी, इन्वेस्ट उत्तर प्रदेश द्वारा उद्यमी संबंध प्रबंधन के लिए कौन-सा पोर्टल स्थापित किया गया है ?

- (a) धन मार्गदर्शक
- (b) अर्थ मित्र
- (c) निवेश सारथी
- (d) लक्ष्मी पथिक

53. निम्नलिखित में से किसे लोक कार्य के लिए, मरणोपरांत 2025 के पद्म भूषण पुरस्कार से सम्मानित किया गया है ?

- (a) श्री रविचंद्रन अश्विन
- (b) श्री सुशील कुमार मोदी
- (c) श्री विनोद कुमार धाम
- (d) श्री एस. अजीथ कुमार

54. मोरमुगाओ, न्हावा शेवा, मज़गांव निम्नलिखित में से किस कारण प्रसिद्ध हैं ?

- (a) बॉक्साइट खनन
- (b) प्राकृतिक बंदरगाह
- (c) पवन ऊर्जा उत्पादन
- (d) रामसर स्थल

55. निम्नलिखित में से कौन-सा भारत में 'नमामि गंगे कार्यक्रम' का प्रमुख उद्देश्य **नहीं** है ?

- (a) गंगा ग्राम
- (b) वनीकरण
- (c) नगरों में डीजल चलित वाहन प्रतिबंधित करना
- (d) नदी तट विकास



56. Select the correct sequence with respect to light passing through the human eye :
- Cornea – Lens – Pupil – Retina
  - Pupil – Retina – Lens – Cornea
  - Retina – Lens – Cornea – Pupil
  - Cornea – Pupil – Lens – Retina
57. Consider the following statements with reference to 'LiFE' :
- A Lifestyle for Environment (LiFE) Movement was announced in 2021.
  - It is an India-led global mass movement to nudge individual and community action to protect and preserve the environment.
- Which of the above statements is/are correct ?
- Neither I nor II
  - Only I
  - Only II
  - Both I and II
58. Which country is set to host the next Global AI Impacts Summit, as announced at the 2025 Paris meeting ?
- United Kingdom
  - India
  - France
  - None of the above
59. The letters of the word LUCKNOW are arranged among themselves. The probability that the letters 'NOW' always appear together is :
- $\frac{2}{42}$
  - $\frac{1}{42}$
  - $\frac{5}{42}$
  - $\frac{3}{42}$
60. A man is 3 years older than his wife and four times as old as his son. If the son attains the age of 15 years after 3 years, what is the present age of the mother ?
- 48 years
  - 45 years
  - 60 years
  - 51 years
56. मानव नेत्र के संदर्भ में प्रकाश पथ का सही क्रम चुनिए :
- कॉर्निया – लेंस – प्यूपिल – रेटिना
  - प्यूपिल – रेटिना – लेंस – कॉर्निया
  - रेटिना – लेंस – कॉर्निया – प्यूपिल
  - कॉर्निया – प्यूपिल – लेंस – रेटिना
57. 'लाइफ' (LiFE) के संदर्भ में निम्नलिखित कथनों पर विचार कीजिए :
- पर्यावरण के लिए जीवनशैली (LiFE) आन्दोलन की घोषणा 2021 में की गई थी।
  - यह पर्यावरण रक्षा और संरक्षण के लिए व्यक्तिगत और सामुदायिक कार्रवाई करने के लिए भारत के नेतृत्व वाला वैश्विक जन आन्दोलन है।
- उपर्युक्त में से कौन-सा/से कथन सही है/हैं ?
- न तो I न ही II
  - केवल I
  - केवल II
  - I एवं II दोनों
58. 2025 पेरिस बैठक में घोषित अगले वैश्विक एआई प्रभाव शिखर सम्मेलन की मेजबानी कौन-सा देश करेगा ?
- यूनाइटेड किंगडम
  - भारत
  - फ्रांस
  - उपर्युक्त में से कोई नहीं
59. शब्द LUCKNOW के अक्षरों को आपस में व्यवस्थित किया गया है। शब्द में 'NOW' के हमेशा होने की प्राथमिकता है :
- $\frac{2}{42}$
  - $\frac{1}{42}$
  - $\frac{5}{42}$
  - $\frac{3}{42}$
60. एक व्यक्ति अपनी पत्नी से तीन वर्ष बड़ा है और अपने पुत्र की आयु का चार गुना है। यदि पुत्र तीन वर्ष पश्चात् 15 वर्ष का हो जाएगा, तो माँ की वर्तमान आयु क्या है ?
- 48 वर्ष
  - 45 वर्ष
  - 60 वर्ष
  - 51 वर्ष



61. Where is the National Chamber of Industries and Commerce located in Uttar Pradesh ?

- (a) Agra (b) Lucknow  
(c) Ghaziabad (d) Kanpur

62. Which of the following members of the Simon Commission was associated with the Conservative Party of Britain ?

- (a) Cadogan (b) Burnham  
(c) Strathcona (d) Hartshorn

63. Standing water, in the form of a lake/swamp, is called :

- (a) Marine  
(b) Lentic  
(c) Pool  
(d) Lotic

64. The Rhine Waterway in Europe does **not** pass through which of the following countries ?

- (a) The Netherlands (b) Italy  
(c) Switzerland (d) Germany

65. Consider the following statements regarding Article 75 of the Indian Constitution :

- I. The Prime Minister shall be appointed by the President.
- II. Other Ministers shall be appointed by the President on the advice of the Prime Minister.
- III. The Ministers shall hold office during the pleasure of the President.
- IV. The Council of Ministers shall be collectively responsible to the House of the People.

Which of the above statements are correct ?

- (a) II, III and IV  
(b) I and III  
(c) I, II, III and IV  
(d) I and II

61. नेशनल चैम्बर ऑफ इंडस्ट्रीज एण्ड कॉमर्स उत्तर प्रदेश में कहाँ स्थित है ?

- (a) आगरा (b) लखनऊ  
(c) गाज़ियाबाद (d) कानपुर

62. निम्नलिखित में से साइमन कमीशन का कौन-सा सदस्य ब्रिटेन की कंजर्वेटिव पार्टी से संबंधित था ?

- (a) कैडोगन (b) बर्नहैम  
(c) स्ट्रेथकोना (d) हार्टशॉर्न

63. ठहरा पानी, जैसे कि झील/दलदल, को निम्नलिखित में से क्या कहते हैं ?

- (a) समुद्री  
(b) लेन्टिक  
(c) ताल  
(d) लोटिक



64. यूरोप में राइन नदी (जलमार्ग) निम्नलिखित देशों में से किससे होकर **नहीं** गुजरती है ?

- (a) द नीदरलैंड्स (b) इटली  
(c) स्विट्ज़रलैंड (d) जर्मनी

65. अनुच्छेद 75 के संबंध में निम्नलिखित कथनों पर विचार कीजिए :

- I. प्रधानमंत्री की नियुक्ति राष्ट्रपति द्वारा की जाएगी।
- II. अन्य मंत्रियों की नियुक्ति राष्ट्रपति द्वारा प्रधानमंत्री की सलाह पर की जाएगी।
- III. मंत्रीगण राष्ट्रपति की इच्छा पर्यन्त पद धारण करेंगे।
- IV. मंत्रिपरिषद सामूहिक रूप से लोकसभा के प्रति उत्तरदायी होगी।

उपर्युक्त में से कौन-से कथन सही हैं ?

- (a) II, III और IV  
(b) I और III  
(c) I, II, III और IV  
(d) I और II





66. Consider the following statements :

- I. Nannaya was in the court of Chalukya King who composed the Ramayana in Telugu.
- II. Kamban was in the court of Chola King who composed the Mahabharata in Tamil.

Which of the above statements is/are correct ?

- (a) Only I
- (b) Only II
- (c) Both I and II
- (d) Neither I nor II



67. Match List I with List II and select the correct answer using the code given below the lists :

**List I**

**(Industrial Waste)**

- |                |                              |
|----------------|------------------------------|
| A. Fly Ash     | i. Coal-based thermal plants |
| B. Lime Sludge | ii. Caustic soda industry    |
| C. Brine Mud   | iii. Cement plants           |
| D. Kiln Dust   | iv. Sugar and Paper industry |

**Code :**

- (a) A-i, B-ii, C-iii, D-iv
- (b) A-i, B-iv, C-iii, D-ii
- (c) A-i, B-iv, C-ii, D-iii
- (d) A-i, B-iii, C-iv, D-ii

68. Which of the following is an essential feature of the Indian Polity that indicates it is federal in nature ?

- (a) The Fundamental Rights are enforceable by courts of law
- (b) Independence of judiciary is safeguarded
- (c) Single citizenship
- (d) The Union Cabinet has elected representatives from regional parties

66. निम्नलिखित कथनों पर विचार कीजिए :

- I. नन्नया चालुक्य राजा के दरबार में थे, जिन्होंने तेलुगु में रामायण की रचना की।
- II. कंबन चोल राजा के दरबार में थे, जिन्होंने तमिल में महाभारत की रचना की।

उपर्युक्त में से कौन-सा/से कथन सही है/हैं ?

- (a) केवल I
- (b) केवल II
- (c) I एवं II दोनों
- (d) न तो I न ही II

67. सूची I को सूची II से सुमेलित कीजिए तथा सूचियों के नीचे दिए गए कूट का प्रयोग कर सही उत्तर का चयन कीजिए :

**सूची I**

**(औद्योगिक कचरा)**

- A. फ्लाई एश (राख)
- B. कीचड़ चूना
- C. नमकीन मिट्टी
- D. भट्टी की धूल

**सूची II**

**(स्रोत/मूल)**

- i. कोयला-आधारित थर्मल प्लांट
- ii. कॉस्टिक सोडा उद्योग
- iii. सीमेन्ट प्लांट
- iv. चीनी एवं कागज उद्योग

**कूट :**

- (a) A-i, B-ii, C-iii, D-iv
- (b) A-i, B-iv, C-iii, D-ii
- (c) A-i, B-iv, C-ii, D-iii
- (d) A-i, B-iii, C-iv, D-ii



68. निम्नलिखित में से कौन-सा भारतीय राजव्यवस्था का एक आवश्यक लक्षण है जो यह दर्शाता है कि इसका स्वरूप संघीय है ?

- (a) मौलिक अधिकार न्यायालय द्वारा प्रवर्तनीय है
- (b) न्यायपालिका की स्वतंत्रता सुरक्षित है
- (c) एकल नागरिकता
- (d) केन्द्रीय मंत्रिमंडल में क्षेत्रीय दलों के निर्वाचित प्रतिनिधि शामिल हैं



69. Sweta is a variety of which crop ?  
 (a) Maize  
 (b) Pearl millet  
 (c) Sorghum  
 (d) Mungbean
70. Royal Jelly is milky or light pale. It is composed of an approximate protein content of :  
 (a) 2 – 5%  
 (b) 15 – 18%  
 (c) 8 – 9%  
 (d) 10 – 12%
71. Which of the following Solar Power Plants in Uttar Pradesh is among the largest in the state ?  
 (a) Jalaun Solar Park (b) Mirzapur Solar Park  
 (c) Agra Solar Park (d) Lalitpur Solar Park
72. The sum of two numbers is 15 and their geometric mean is 20% lower than their arithmetic mean. Then the numbers will be :  
 (a) 11, 4 (b) 9, 6  
 (c) 10, 5 (d) 12, 3
73. The Fourth Kautilya Economic Conclave (KEC 2025) concluded in New Delhi. What was its main theme ?  
 (a) Indian Economy : Yesterday and Today  
 (b) Seeking Prosperity in Turbulent Times  
 (c) Geopolitical Instability and Economic Solutions  
 (d) Global Trade and Investment
74. The part of barometric pressure due to water vapour is called :  
 (a) Turgor pressure  
 (b) Atmospheric pressure  
 (c) Vapour pressure  
 (d) Wall pressure
69. श्वेता किस फसल की प्रजाति है ?  
 (a) मक्का की  
 (b) बाजरा की  
 (c) ज्वार की  
 (d) मूँग की
70. रॉयल जैली दूधिया या हल्के पीले रंग की होती है। इनमें प्रोटीन की अनुमानित मात्रा होती है :  
 (a) 2 – 5%  
 (b) 15 – 18%  
 (c) 8 – 9%  
 (d) 10 – 12%
71. उत्तर प्रदेश का सबसे बड़ा सौर ऊर्जा संयंत्र निम्नलिखित में से कौन-सा है ?  
 (a) जालौन सौर संयंत्र (b) मिर्जापुर सौर संयंत्र  
 (c) आगरा सौर संयंत्र (d) ललितपुर सौर संयंत्र
72. दो संख्याओं का योगफल 15 है तथा उनका गुणोत्तर माध्य समान्तर माध्य से 20% कम है। तो संख्याएँ होंगी :  
 (a) 11, 4 (b) 9, 6  
 (c) 10, 5 (d) 12, 3
73. चौथा कौटिल्य आर्थिक सम्मेलन (KEC 2025) नई दिल्ली में संपन्न हुआ। इसका मुख्य विषय क्या था ?  
 (a) भारत की अर्थव्यवस्था : कल और आज  
 (b) अशांत समय में समृद्धि की तलाश  
 (c) भू-राजनीतिक अस्थिरता और आर्थिक समाधान  
 (d) वैश्विक व्यापार और निवेश
74. बेरोमेट्रिक दाब का भाग जो जल वाष्प के कारण होता है, कहलाता है :  
 (a) स्फीति दाब  
 (b) वायुमण्डलीय दाब  
 (c) वाष्प दाब  
 (d) भित्ति दाब



75. Who was the founder of 'Anjuman-i-Mohibban-i-Watan' at Lahore ?

- (a) Ajit Singh (b) Lala Lajpat Rai  
(c) Lala Harkishan Lal (d) Bhagat Singh

76. Arrange the four Buddhist Councils according to the chronological sequence of the places where they were held :

- I. Vaishali  
II. Rajgriha  
III. Kundalvana  
IV. Pataliputra

Select the correct answer from the code given below :

- (a) II, I, III, IV  
(b) IV, III, II, I  
(c) II, I, IV, III  
(d) IV, II, I, III

77. Personnel Management Information System Network (PERMISnet) has been developed at :

- (a) IASRI  
(b) ICAR  
(c) IARI  
(d) IVRI

78. When did the Dowry Prohibition (Amendment) Act come into force ?

- (a) 1955 (b) 1961 (c) 1956 (d) 1986

79. If 1<sup>st</sup> January, 1992 was a Tuesday, then which day of the week did 1<sup>st</sup> January, 1993 fall on ?

- (a) Thursday (b) Tuesday  
(c) Friday (d) Wednesday

80. Which of the following was the first newspaper published from Mumbai during the Colonial period ?

- (a) Bombay Courier (b) Bombay Times  
(c) Bombay Herald (d) Mumbai Mirror

75. निम्नलिखित में से किसने लाहौर में 'अंजुमने-मोहिब्बाने-वतन' की स्थापना की थी ?

- (a) अजीत सिंह (b) लाला लाजपत राय  
(c) लाला हरकिशन लाल (d) भगत सिंह

76. चार बौद्ध संगीतियों को उनके आयोजन स्थलों के कालक्रमानुसार व्यवस्थित कीजिए :

- I. वैशाली  
II. राजगृह  
III. कुण्डलवन  
IV. पाटलिपुत्र

नीचे दिए गए कूट में से सही उत्तर का चयन कीजिए :

- (a) II, I, III, IV  
(b) IV, III, II, I  
(c) II, I, IV, III  
(d) IV, II, I, III

77. कार्मिक प्रबंधन सूचना प्रणाली नेटवर्क (PERMISnet) विकसित हुआ है :

- (a) आईएसआरआई में  
(b) आईसीएआर में  
(c) आईएआरआई में  
(d) आईवीआरआई में

78. दहेज निरोधक (संशोधन) अधिनियम कब लागू हुआ ?

- (a) 1955 (b) 1961 (c) 1956 (d) 1986

79. यदि 1 जनवरी, 1992 को मंगलवार था, तो 1 जनवरी, 1993 को सप्ताह का कौन-सा दिन पड़ेगा ?

- (a) बृहस्पतिवार (b) मंगलवार  
(c) शुक्रवार (d) बुधवार

80. औपनिवेशिक काल के दौरान मुम्बई से प्रकाशित होने वाला पहला समाचार-पत्र निम्नलिखित में से कौन-सा था ?

- (a) बॉम्बे कुरियर (b) बॉम्बे टाइम्स  
(c) बॉम्बे हेराल्ड (d) मुम्बई मिरर





81. Consider the following statements with reference to the e-Shram portal :

- I. Ministry of Labour and Employment has developed e-Shram portal for creating a national database of unorganised workers.
- II. e-Shram portal has been linked to NCS portal and ASEEM portal for seamless facilitation of services.

Which of the above statements is/are correct ?

- (a) Only I
- (b) Both I and II
- (c) Neither I nor II
- (d) Only II



82. Which of the following programmes are encompassed with Namami Gange Programme ?

- I. Ganga Gram Programme
- II. Industrial Effluent Monitoring Programme
- III. Sewerage Treatment Infrastructure Programme
- IV. River Surface Cleaning Programme

Options :

- (a) I and IV
- (b) I, II and IV
- (c) I, II and III
- (d) I, II, III and IV

83. In June 2025, who became the first woman President of the International Olympic Committee ?

- (a) Kirsty Coventry
- (b) Shirley Botchwey
- (c) P.T. Usha
- (d) Nita Ambani

84. Silvi-agri-livestock-fisheries production (Zabo Production System) indigenous farming system is related to :

- (a) Nagaland
- (b) Meghalaya
- (c) Arunachal Pradesh
- (d) Assam

81. ई-श्रम पोर्टल के संदर्भ में निम्नलिखित कथनों पर विचार कीजिए :

- I. श्रम और रोजगार मंत्रालय ने असंगठित श्रमिकों का राष्ट्रीय डेटाबेस बनाने के लिए ई-श्रम पोर्टल विकसित किया है।
- II. सेवाओं की निर्बाध सुविधा के लिए ई-श्रम पोर्टल को एनसीएस पोर्टल और असीम पोर्टल से जोड़ा गया है।

उपर्युक्त में से कौन-सा/से कथन सही है/हैं ?

- (a) केवल I
- (b) I एवं II दोनों
- (c) न तो I न ही II
- (d) केवल II

82. निम्नलिखित में से किन योजनाओं को नमामि गंगे कार्यक्रम से जोड़ा गया है ?

- I. गंगा ग्राम योजना
- II. औद्योगिक अपशिष्ट निगरानी कार्यक्रम
- III. मल-जल उपचार अवसंरचना कार्यक्रम
- IV. नदी तल का सफाई कार्यक्रम

विकल्प :

- (a) I और IV
- (b) I, II और IV
- (c) I, II और III
- (d) I, II, III और IV



83. जून 2025 में, अन्तर्राष्ट्रीय ओलंपिक समिति की पहली महिला अध्यक्ष कौन बनी ?

- (a) किस्टी कोवेंट्री
- (b) शर्ली बोचवे
- (c) पी.टी. उषा
- (d) नीता अंबानी

84. सिल्वी-एग्री-लाइवस्टॉक-फिशरीज उत्पादन (ज़ाबो उत्पादन प्रणाली) स्वदेशी कृषि प्रणाली संबंधित है :

- (a) नागालैण्ड से
- (b) मेघालय से
- (c) अरुणाचल प्रदेश से
- (d) असम से

85. Consider the following statements :

- I. References of Sabha and Samiti are found in Rigveda and Atharvaveda.
- II. The Samiti was a committee of elders.
- III. A republic confederacy called the Kshudraka-Malla fought against Alexander in the 4<sup>th</sup> century A.D.

Which of the above statements are correct ?

- (a) I and III
- (b) I and II
- (c) II and III
- (d) I, II, III

86. Consider the following statements with reference to Bhoja, the Pratihara ruler :

- I. He assumed the title of 'Adivaraha'.
- II. The great Sanskrit poet and dramatist Rajashekhara was his court poet.

Which of the above statements is/are correct ?

- (a) Only II
- (b) Neither I nor II
- (c) Only I
- (d) Both I and II

87. Article 243D of the Indian Constitution includes provisions related to which of the following ?

- (a) Reservation in State Universities
- (b) High Courts
- (c) Reservation in Panchayat
- (d) District Courts

88. Which country was elected as the Chairman of the Executive Board during the 23<sup>rd</sup> AIBD General Assembly in 2025 ?

- (a) Thailand
- (b) Malaysia
- (c) India
- (d) China

85. निम्नलिखित कथनों पर विचार कीजिए :

- I. ऋग्वेद तथा अथर्ववेद में सभा तथा समिति का उल्लेख मिलता है।
- II. समिति वयोवृद्धों की सभा थी।
- III. क्षुद्रक-मल्ल संघ नामक गणतंत्र परिसंघ ने चौथी शताब्दी ई. में सिकंदर से मुकाबला किया था।

उपर्युक्त में से कौन-से कथन सही हैं ?

- (a) I और III
- (b) I और II
- (c) II और III
- (d) I, II, III

86. प्रतिहार शासक भोज के संदर्भ में निम्नलिखित कथनों पर विचार कीजिए :

- I. उसने 'आदिवराह' की उपाधि ली।
- II. महान संस्कृत कवि और नाटककार राजशेखर उसका दरबारी कवि था।

उपर्युक्त में से कौन-सा/से कथन सही है/हैं ?

- (a) केवल II
- (b) न तो I न ही II
- (c) केवल I
- (d) I एवं II दोनों

87. भारतीय संविधान के अनुच्छेद 243D में निम्नलिखित में से किससे संबंधित प्रावधान शामिल हैं ?

- (a) राज्य विश्वविद्यालयों में आरक्षण
- (b) उच्च न्यायालय
- (c) पंचायत में आरक्षण
- (d) जिला न्यायालय

88. 2025 में एआईबीडी साधारण सभा (जनरल एसेंबली) के 23वें महाधिवेशन के दौरान किस देश को कार्यकारी बोर्ड का अध्यक्ष चुना गया ?

- (a) थाइलैंड
- (b) मलेशिया
- (c) भारत
- (d) चीन



89. Which among the following is **not** correctly matched ?

- (a) Water Pollution Cess Act – 1977
- (b) Water (Prevention and Control of Pollution) Act – 1973
- (c) Air (Prevention and Control of Pollution) Act – 1981
- (d) The Environment (Protection) Act – 1986

90. The main purpose of Sample Registration System (SRS) in Uttar Pradesh is :

- (a) To record migration statistics
- (b) To estimate agriculture productivity
- (c) To monitor population growth and health indicators
- (d) To track economic growth

91. Zuari Estuary is associated with :

- (a) Mormugao Port
- (b) New Mangalore Port
- (c) Deendayal Port
- (d) Tuticorin Port

92. Phenol and Formaldehyde react to form :

- (a) Celluloid
- (b) Vinyl plastic
- (c) Bakelite
- (d) None of the above

93. The amount of oxygen required for biochemical decomposition process is called :

- (a) Chemical oxygen demand
- (b) Dissolved oxygen
- (c) Biochemical oxygen demand
- (d) None of the above



89. निम्नलिखित में से कौन-सा युग्म सही सुमेलित **नहीं** है ?

- (a) जल प्रदूषण सेस अधिनियम – 1977
- (b) जल (प्रदूषण निवारण एवं नियंत्रण) अधिनियम – 1973
- (c) वायु (प्रदूषण निवारण एवं नियंत्रण) अधिनियम – 1981
- (d) पर्यावरण सुरक्षा अधिनियम – 1986



90. उत्तर प्रदेश में नमूना पंजीकरण प्रणाली (एसआरएस) का मुख्य उद्देश्य है :

- (a) प्रवासन के आँकड़े दर्ज करना
- (b) कृषि उत्पादकता का अनुमान लगाना
- (c) जनसंख्या वृद्धि एवं स्वास्थ्य संकेतकों की निगरानी करना
- (d) आर्थिक विकास पर नजर रखना

91. जुआरी नदमुख (एश्चुएरी) संबंधित है :

- (a) मोरमुगाओ बंदरगाह से
- (b) न्यू मंगलोर बंदरगाह से
- (c) दीनदयाल बंदरगाह से
- (d) तूतीकोरिन बंदरगाह से

92. फिनोल तथा फॉर्मेलिडहाइड आपसी अभिक्रिया से बनाते हैं :

- (a) सेल्यूलॉइड
- (b) विनाइल प्लास्टिक
- (c) बैकेलाइट
- (d) उपर्युक्त में से कोई नहीं

93. जैव-रासायनिक अपघटन प्रक्रिया के लिए ऑक्सीजन की मात्रा की आवश्यकता को निम्नलिखित में से क्या कहा जाता है ?

- (a) रासायनिक ऑक्सीजन माँग
- (b) घुलित ऑक्सीजन
- (c) जैव-रासायनिक ऑक्सीजन माँग
- (d) उपर्युक्त में से कोई नहीं



94. Consider the following about the Lahore Conspiracy Case which resulted in the hanging of :

- I. Ram Prasad Bismil
- II. Bhagat Singh
- III. Roshan Singh
- IV. Sukhdev
- V. Rajguru

Select the correct answer from the code given below :

- (a) II, III, IV
- (b) I, II, III
- (c) I, II
- (d) II, IV, V



95. Match List I with List II and select the correct answer using the code given below the lists :

**List I**

- A. Dynamo
- B. Salinometer
- C. Manometer
- D. Photometer

**List II**

- i. Measures the salinity of water
- ii. Converts mechanical energy into electrical energy
- iii. Measures the intensity of light
- iv. Measures the pressure of liquids or gases

**Code :**

- (a) A-i, B-iv, C-iii, D-ii
- (b) A-iii, B-ii, C-i, D-iv
- (c) A-iv, B-iii, C-ii, D-i
- (d) A-ii, B-i, C-iv, D-iii

96. Central Soil and Water Conservation Research and Training Institute, Dehradun was established on :

- (a) 1<sup>st</sup> April, 1974
- (b) 10<sup>th</sup> April, 1973
- (c) 1<sup>st</sup> April, 1978
- (d) 1<sup>st</sup> January, 1972

94. लाहौर षडयंत्र काण्ड के विषय में निम्नलिखित पर विचार कीजिए, जिन्हें परिणामस्वरूप फाँसी पर लटकाया गया :

- I. राम प्रसाद बिस्मिल
- II. भगत सिंह
- III. रोशन सिंह
- IV. सुखदेव
- V. राजगुरु

नीचे दिए गए कूट में से सही उत्तर का चयन कीजिए :

- (a) II, III, IV
- (b) I, II, III
- (c) I, II
- (d) II, IV, V

95. सूची I को सूची II से सुमेलित कीजिए तथा सूचियों के नीचे दिए गए कूट का प्रयोग कर सही उत्तर का चयन कीजिए :

**सूची I**

- A. डाइनेमो
- B. सेलीनोमीटर
- C. मैनोमीटर
- D. फोटोमीटर

**सूची II**

- i. पानी की क्षारीयता मापना
- ii. यांत्रिक ऊर्जा को विद्युत ऊर्जा में बदलना
- iii. प्रकाश की तीव्रता मापना
- iv. द्रव्य या गैस के दाब को मापना

**कूट :**

- (a) A-i, B-iv, C-iii, D-ii
- (b) A-iii, B-ii, C-i, D-iv
- (c) A-iv, B-iii, C-ii, D-i
- (d) A-ii, B-i, C-iv, D-iii

96. केन्द्रीय मृदा एवं जल संरक्षण अनुसंधान एवं प्रशिक्षण संस्थान, देहरादून कब स्थापित हुआ था ?

- (a) 1 अप्रैल, 1974
- (b) 10 अप्रैल, 1973
- (c) 1 अप्रैल, 1978
- (d) 1 जनवरी, 1972





97. Consider the following parts and arrange them in correct order for the human digestive system :

- I. Small intestine
- II. Stomach
- III. Oesophagus
- IV. Large intestine

Select the correct answer from the code given below :

- (a) III, II, I, IV
- (b) IV, I, II, III
- (c) II, III, I, IV
- (d) I, IV, III, II

98. Which one of the following are commonly known as 'Biological Supermarkets' ?



- (a) Wetlands
- (b) Cold deserts
- (c) Mountains
- (d) Mangroves

99. Match List I with List II and select the correct answer using the code given below the lists :

**List I**

- A. Nuruddin
- B. Minhaj-ud-din Siraj
- C. Bhanudatta
- D. Vamana Bhatta Bana

**List II**

- i. Rasamanjari
- ii. Lubab-ul-Albab
- iii. Parvati Parinaya
- iv. Tabaqat-i-Nasiri

**Code :**

- (a) A-i, B-iii, C-ii, D-iv
- (b) A-iii, B-ii, C-iv, D-i
- (c) A-iv, B-i, C-iii, D-ii
- (d) A-ii, B-iv, C-i, D-iii

100. There are 36 students in a class. The number of boys is twice the number of girls. There are 13 boys ahead of Sarita who ranked 19<sup>th</sup> in the class. How many girls are behind Sarita ?

- (a) 11
- (b) 5
- (c) 12
- (d) 6

97. मानव के पाचन तंत्र के संदर्भ में निम्नलिखित भागों को सही क्रम में व्यवस्थित कीजिए :

- I. छोटी आंत
- II. आमाशय
- III. ग्रास-नली (इसोफेगस)
- IV. बड़ी आंत

नीचे दिए गए कूट में से सही उत्तर का चयन कीजिए :

- (a) III, II, I, IV
- (b) IV, I, II, III
- (c) II, III, I, IV
- (d) I, IV, III, II

98. निम्नलिखित में से किसे सामान्यतः 'जैविक सुपरमार्केट' के रूप में जाना जाता है ?

- (a) आर्द्रभूमि
- (b) शीत मरुस्थल
- (c) पर्वत
- (d) मैंग्रोव

99. सूची I को सूची II से सुमेलित कीजिए तथा सूचियों के नीचे दिए गए कूट का प्रयोग कर सही उत्तर का चयन कीजिए :

**सूची I**

- A. नूरुद्दीन
- B. मिनहाजुद्दीन सिराज
- C. भानुदत्त
- D. वामन भट्ट बाण

**सूची II**

- i. रसमंजरी
- ii. लुबाब-उल-अलबाब
- iii. पार्वती परिणय
- iv. तबकाते-नासिरी

**कूट :**

- (a) A-i, B-iii, C-ii, D-iv
- (b) A-iii, B-ii, C-iv, D-i
- (c) A-iv, B-i, C-iii, D-ii
- (d) A-ii, B-iv, C-i, D-iii

100. एक कक्षा में 36 विद्यार्थी हैं। लड़कों की संख्या लड़कियों की संख्या से दोगुनी है। सरिता जिसका कक्षा में 19वाँ स्थान है उससे 13 लड़के आगे हैं। सरिता से पीछे कितनी लड़कियाँ हैं ?

- (a) 11
- (b) 5
- (c) 12
- (d) 6

101. Udyogmandal Canal is associated with :

- (a) National Waterway – 5
- (b) National Waterway – 3
- (c) National Waterway – 4
- (d) National Waterway – 2

102. Match List I with List II and select the correct answer using the code given below the lists :

**List I**

**(Category)**

A. Health

B. Literacy

C. Skill Development

D. Entrepreneurship

**List II**

**(Scheme)**

i. Nipun Bharat Mission

ii. MUDRA Yojana

iii. PM Vishwakarma

iv. e-Sanjeevani

**Code :**

- (a) A-iii, B-ii, C-i, D-iv
- (b) A-iii, B-iv, C-ii, D-i
- (c) A-iv, B-i, C-iii, D-ii
- (d) A-iv, B-iii, C-ii, D-i



103. Which Indian cities of India have been included in the list of 31 Wetland Accredited Cities of the world in January 2025 ?

- (a) Delhi and Kolkata
- (b) Mumbai and Chennai
- (c) Bengaluru and Hyderabad
- (d) Indore and Udaipur

104. With which global technology company did Uttar Pradesh launch an AI-powered agricultural network in 2025 ?

- (a) Microsoft
- (b) Google Cloud
- (c) Meta
- (d) OpenAI

101. उद्योगमण्डल नहर सम्बन्धित है :

- (a) राष्ट्रीय जलमार्ग – 5 से
- (b) राष्ट्रीय जलमार्ग – 3 से
- (c) राष्ट्रीय जलमार्ग – 4 से
- (d) राष्ट्रीय जलमार्ग – 2 से

102. सूची I को सूची II से सुमेलित कीजिए तथा सूचियों के नीचे दिए गए कूट का प्रयोग कर सही उत्तर का चयन कीजिए :

**सूची I**

**(वर्ग)**

A. स्वास्थ्य

B. साक्षरता

C. कौशल विकास

D. उद्यमिता

**सूची II**

**(योजना)**

i. निपुण भारत मिशन

ii. मुद्रा योजना

iii. पीएम विश्वकर्मा

iv. ई-संजीवनी

**कूट :**

- (a) A-iii, B-ii, C-i, D-iv
- (b) A-iii, B-iv, C-ii, D-i
- (c) A-iv, B-i, C-iii, D-ii
- (d) A-iv, B-iii, C-ii, D-i

103. जनवरी 2025 में, भारत के किन भारतीय शहरों को दुनिया के 31 आर्द्रभूमि मान्यता-प्राप्त शहरों की सूची में शामिल किया गया है ?

- (a) दिल्ली और कोलकाता
- (b) मुंबई और चेन्नई
- (c) बेंगलुरु और हैदराबाद
- (d) इंदौर और उदयपुर



104. उत्तर प्रदेश ने 2025 में किस वैश्विक तकनीकी कम्पनी के साथ AI-सामर्थ्य कृषि नेटवर्क की शुरुआत की ?

- (a) माइक्रोसॉफ्ट
- (b) गूगल क्लाउड
- (c) मेटा
- (d) ओपनएआई





105. Match List I with List II and select the correct answer using the code given below the lists :

List I	List II
A. Anthology	i. Study of soil
B. Pedology	ii. Study of flowers
C. Oncology	iii. Study of pollen grains
D. Palynology	iv. Study of diagnosis and treatment of tumour/cancer

Code :

- (a) A-i, B-iv, C-iii, D-ii  
 (b) A-iv, B-iii, C-ii, D-i  
 (c) A-iii, B-ii, C-i, D-iv  
 (d) A-ii, B-i, C-iv, D-iii

106. In which city of Thailand was the 23<sup>rd</sup> AIBD General Conference held from 19<sup>th</sup> to 21<sup>st</sup> August, 2025 ?

- (a) Phuket  
 (b) Chiang Mai  
 (c) Pattaya  
 (d) Bangkok

107. Match List I with List II and select the correct answer using the code given below the lists :

List I (Scheme)	List II (For)
A. PM-Kisan	i. Crop Insurance
B. PMFBY	ii. Horticulture
C. e-NAM	iii. Financial Assistance
D. MIDH	iv. Online Bidding

Code :

- (a) A-iii, B-i, C-iv, D-ii  
 (b) A-i, B-ii, C-iii, D-iv  
 (c) A-iv, B-i, C-ii, D-iii  
 (d) A-ii, B-iii, C-iv, D-i



105. सूची I को सूची II से सुमेलित कीजिए तथा सूचियों के नीचे दिए गए कूट का प्रयोग कर सही उत्तर का चयन कीजिए :

सूची I	सूची II
A. एंथोलॉजी	i. मिट्टी का अध्ययन
B. पीडोलॉजी	ii. फूलों का अध्ययन
C. ऑन्कोलॉजी	iii. परागकणों का अध्ययन
D. पैलीनोलॉजी	iv. ट्यूमर/कैंसर के निदान और उपचार का अध्ययन

कूट :

- (a) A-i, B-iv, C-iii, D-ii  
 (b) A-iv, B-iii, C-ii, D-i  
 (c) A-iii, B-ii, C-i, D-iv  
 (d) A-ii, B-i, C-iv, D-iii



106. थाइलैंड के किस शहर में 19 से 21 अगस्त, 2025 तक 23वाँ एआईबीडी महाधिवेशन आयोजित किया गया था ?

- (a) फुकेत  
 (b) चियांग माई  
 (c) पटाय़ा  
 (d) बैंकॉक

107. सूची I को सूची II से सुमेलित कीजिए तथा सूचियों के नीचे दिए गए कूट का प्रयोग कर सही उत्तर का चयन कीजिए :

सूची I (योजना)	सूची II (के लिए)
A. पीएम-किसान	i. फसल बीमा
B. पीएमएफबीवाई	ii. बागवानी
C. ई-नाम	iii. वित्तीय सहायता
D. एमआईडीएच	iv. ऑनलाइन बोली

कूट :

- (a) A-iii, B-i, C-iv, D-ii  
 (b) A-i, B-ii, C-iii, D-iv  
 (c) A-iv, B-i, C-ii, D-iii  
 (d) A-ii, B-iii, C-iv, D-i

108. Consider the following statements with reference to Acworth Committee :

- I. This committee was related to Indian Railways.
- II. This committee recommended nationalization of Railways.

Which of the above statements is/are correct ?

- (a) Only I
- (b) Both I and II
- (c) Neither I nor II
- (d) Only II

109. The National Food Security Act, 2013 enacted by the Ministry of Consumer Affairs, Food and Public Distribution was published in the Gazette of India in :

- (a) June, 2011
- (b) January, 2011
- (c) September, 2013
- (d) December, 2013



110. Which of the following statements is **not** true ?

- (a) Monocytes are a type of immune cell.
- (b) Platelets are tiny blood cells formed in the muscles.
- (c) Platelets have no cell nucleus.
- (d) Leukaemia is cancer of the blood.

111. According to Kautilya's 'Arthashastra', the following courts existed in the judicial system of Mauryan age :

- I. Dharma Mahamatra
- II. Dharmasthiya
- III. Rajuka
- IV. Kantak Shodhana

Select the correct answer from the code given below :

- (a) II and IV
- (b) I and II
- (c) III and IV
- (d) I and III

108. एकवर्थ समिति के संदर्भ में निम्नलिखित कथनों पर विचार कीजिए :

- I. यह समिति भारतीय रेलवे से संबंधित थी।
  - II. इस समिति ने रेलवे के राष्ट्रीयकरण की संस्तुति की।
- उपर्युक्त में से कौन-सा/से कथन सही है/हैं ?

- (a) केवल I
- (b) I एवं II दोनों
- (c) न तो I न ही II
- (d) केवल II

109. राष्ट्रीय खाद्य सुरक्षा अधिनियम 2013, जो कि उपभोक्ता मामले, खाद्य और सार्वजनिक वितरण मंत्रालय द्वारा अधिनियमित किया गया था, भारत के राजपत्र में प्रकाशित हुआ था :

- (a) जून, 2011 में
- (b) जनवरी, 2011 में
- (c) सितम्बर, 2013 में
- (d) दिसम्बर, 2013 में

110. निम्नलिखित में से कौन-सा कथन सत्य **नहीं** है ?

- (a) मोनोसाइट्स एक प्रकार की इम्यून कोशिकाएँ हैं।
- (b) प्लेटलेट्स मांसपेशियों में बनने वाली छोटी रक्त कोशिकाएँ हैं।
- (c) प्लेटलेट्स में कोशिका नाभिक नहीं होता है।
- (d) ल्यूकीमिया एक रक्त कैंसर है।

111. कौटिल्य के 'अर्थशास्त्र' के अनुसार मौर्य कालीन न्यायिक व्यवस्था में निम्नलिखित न्यायालय अस्तित्व में थे :

- I. धर्म महामात्र
- II. धर्मस्थीय
- III. रज्जुक
- IV. कण्टक शोधन

नीचे दिए गए कूट में से सही उत्तर का चयन कीजिए :

- (a) II एवं IV
- (b) I एवं II
- (c) III एवं IV
- (d) I एवं III





112. Which district has been selected under the 'One District One Product' Program for Bindi (Tikuli) ?

- (a) Ballia
- (b) Basti
- (c) Balrampur
- (d) Ghazipur



113. Who among the following was **not** named in the list sent by the Muslim League to be included in the Cabinet of the Interim Government of India formed in 1946 ?

- (a) Liaquat Ali Khan
- (b) Ghazanfar Ali Khan
- (c) Jogendra Nath Mandal
- (d) Syed Ali Zaheer

114. The average age of two brothers is 9 years. If the average age is increased by 9 years when their mother's age is also included, then the age of the mother is :

- (a) 35 years
- (b) 36 years
- (c) 37 years
- (d) 38 years

115. 'The Limits of Growth' report, related to the environment was written by :

- (a) Donella H. Meadows
- (b) A.G. Tansley
- (c) Vandana Shiva
- (d) Madhav Gadgil

116. Pradhan Mantri Kisan Samman Nidhi Yojana was launched on :

- (a) 24<sup>th</sup> February, 2019
- (b) 24<sup>th</sup> December, 2019
- (c) 24<sup>th</sup> July, 2019
- (d) 24<sup>th</sup> March, 2019.

112. बिंदी (टिकुली) के लिए 'एक जिला एक उत्पाद' कार्यक्रम के अंतर्गत किस जिले को चुना गया है ?

- (a) बलिया
- (b) बस्ती
- (c) बलरामपुर
- (d) गाज़ीपुर

113. 1946 में गठित भारत के अंतरिम सरकार के मंत्रिमंडल में शामिल होने के लिए मुस्लिम लीग द्वारा भेजी गई सूची में निम्नलिखित में से किसका नाम नहीं था ?

- (a) लियाकत अली खान
- (b) गज़नफ़र अली खान
- (c) जोगेन्द्र नाथ मंडल
- (d) सैयद अली ज़हीर

114. दो भाइयों की औसत आयु 9 वर्ष है। जब इसमें उनकी माताजी की आयु जुड़ जाती है, तो औसत आयु 9 वर्ष बढ़ जाती है, तब माताजी की आयु है :

- (a) 35 वर्ष
- (b) 36 वर्ष
- (c) 37 वर्ष
- (d) 38 वर्ष



115. 'संवृद्धि की सीमाएँ (Limits of Growth)' जो पर्यावरण से संबंधित है, किसके द्वारा लिखी गई है ?

- (a) डोनेला एच. मीडोज़
- (b) ए.जी. टैन्सले
- (c) वन्दना शिवा
- (d) माधव गाडगिल

116. प्रधानमंत्री किसान सम्मान निधि योजना का शुभारम्भ हुआ था :

- (a) 24 फरवरी, 2019 को
- (b) 24 दिसम्बर, 2019 को
- (c) 24 जुलाई, 2019 को
- (d) 24 मार्च, 2019 को



117. Match List I with List II and select the correct answer using the code given below the lists :

**List I**  
(State)

**List II**  
(Number of Lok Sabha Seats)

- |                      |         |
|----------------------|---------|
| A. Andhra Pradesh    | i. 2    |
| B. Arunachal Pradesh | ii. 25  |
| C. Assam             | iii. 40 |
| D. Bihar             | iv. 14  |

**Code :**

- (a) A-iv, B-i, C-ii, D-iii  
(b) A-i, B-ii, C-iii, D-iv  
(c) A-ii, B-i, C-iv, D-iii  
(d) A-ii, B-i, C-iii, D-iv

118. Consider the following schemes/programmes and arrange these in correct chronological order starting from the earliest to the last :

- I. PM SHRI  
II. Aatmanirbhar Bharat Rojgar Yojana  
III. Pradhan Mantri Kaushal Vikas Yojana  
IV. SANKALP

Select the correct answer from the code given below :

- (a) II, III, IV, I (b) IV, I, II, III  
(c) I, II, III, IV (d) III, IV, II, I

119. Which of the following countries does **not** share a common boundary with Israel ?

- (a) Lebanon  
(b) Jordan  
(c) Saudi Arabia  
(d) Syria

120. Which organisation operates the Tanda Thermal Power Station in Uttar Pradesh ?

- (a) BHEL (b) NHPC  
(c) UPRVUNL (d) NTPC

117. सूची I को सूची II से सुमेलित कीजिए तथा सूचियों के नीचे दिए गए कूट का प्रयोग कर सही उत्तर का चयन कीजिए :

**सूची I**  
(राज्य)

**सूची II**  
(लोकसभा में सीटों की संख्या)

- |                   |         |
|-------------------|---------|
| A. आंध्र प्रदेश   | i. 2    |
| B. अरुणाचल प्रदेश | ii. 25  |
| C. असम            | iii. 40 |
| D. बिहार          | iv. 14  |

**कूट :**

- (a) A-iv, B-i, C-ii, D-iii  
(b) A-i, B-ii, C-iii, D-iv  
(c) A-ii, B-i, C-iv, D-iii  
(d) A-ii, B-i, C-iii, D-iv

118. निम्नलिखित योजनाओं/कार्यक्रमों पर विचार कीजिए और इन्हें शुरू से अन्तिम तक सही कालानुक्रम में व्यवस्थित कीजिए :

- I. पीएम श्री  
II. आत्मनिर्भर भारत रोजगार योजना  
III. प्रधानमंत्री कौशल विकास योजना  
IV. संकल्प

नीचे दिए गए कूट में से सही उत्तर का चयन कीजिए :

- (a) II, III, IV, I (b) IV, I, II, III  
(c) I, II, III, IV (d) III, IV, II, I

119. निम्नलिखित में से कौन-सा देश इजराइल से उभयनिष्ठ सीमा साझा **नहीं** करता है ?

- (a) लेबनान  
(b) जॉर्डन  
(c) सऊदी अरब  
(d) सीरिया

120. उत्तर प्रदेश में टांडा ताप विद्युत केन्द्र का संचालन कौन-सा संगठन करता है ?

- (a) भेल (b) एन.एच.पी.सी.  
(c) यू.पी.आर.वी.यू.एन.एल (d) एन.टी.पी.सी.



## SPACE FOR ROUGH WORK

रफ कार्य के लिए जगह



परीक्षा तैयारी



SPACE FOR ROUGH WORK

रफ़ कार्य के लिए जगह



परीक्षा तैयारी





DO NOT OPEN THIS QUESTION BOOKLET UNTIL YOU ARE TOLD TO DO SO.

Question Booklet Bar Code Serial No.

प्रश्न-पुस्तिका बार कोड क्रम संख्या

2003314



2023

CODE : YKP-51

SUBJECT : General Studies

Q. Nos. 1 to 120

Time : 2 Hours

Max. Marks : 120

Write your Roll Number  
in the box

In numbers

In words

To mark Answer use **Black Ball-point Pen** only.Candidate must read all the instructions carefully  
before writing the answers on the OMR Answer-Sheet.Signature of  
InvigilatorYou are to mark all your answers on the **OMR Answer-Sheet only**. After the examination is over, hand over  
the **OMR Answer-Sheet to the Invigilator** and receive Candidate's copy (Blue) from the Invigilator.**IMPORTANT INSTRUCTIONS**

1. Answer **all** questions. All questions carry equal marks. OMR Answer-Sheet and Question Booklet which carry same Bar Code Serial Number, are kept together inside a sealed transparent polythene packet.
2. **Immediately after opening the transparent sealed polythene packet, again check that the Printed Bar Code Serial Number of Question Booklet and OMR Answer-Sheet is same and all the pages are printed properly. If the Printed Bar Code Serial Number of Question Booklet and OMR Answer-Sheet is not same or there is any other discrepancy in it, return it to the Invigilator and get another sealed polythene packet of Question Booklet and OMR Answer-Sheet.**
3. **Only after ensuring that the printed Bar Code Serial Number of the Question Booklet and OMR Answer-Sheet is same,** candidate has to indicate the correct Roll Number, Subject and Subject Code on the OMR Answer-Sheet at the specified place, otherwise the OMR Answer-Sheet will not be evaluated and the candidate will be solely responsible for it.
4. Do not write anything on the cover page of the Question Booklet except Roll Number. Use the space for rough work given in the last two pages of the Question Booklet.
5. **This Question Booklet contains 120 questions.** Each question has **four (4)** options which are given below the question. Only one option is correct out of the four. You are required to darken the circle corresponding to the alternative which you consider to be the correct or most appropriate answer in the OMR Answer-Sheet by **Black Ball-point Pen**.
6. In this Question Booklet, all questions are printed in both English and Hindi languages. In case of any ambiguity in the bilingual (English/Hindi) question, the English version of the question shall prevail.
7. **Penalty for wrong answers :**

**THERE WILL BE PENALTY FOR WRONG ANSWERS MARKED BY A CANDIDATE IN THE OMR ANSWER-SHEET.**

- (i) There are four alternatives for the answer to every question. For each question for which a wrong answer has been given by the candidate, **one-third** of the marks assigned to that question will be deducted as penalty.
- (ii) If a candidate gives more than one answer, it will be treated as a **wrong answer**, even if one of the given answers happens to be correct and there will be same penalty as above to that question.
- (iii) If a question is left blank, i.e., no answer is given by the candidate, there will be **no penalty** for that question.

**Note : Please check that the Bar Code Serial Number printed on the Question Booklet and the OMR Answer-Sheet is same, in case of any discrepancy in it, get it changed with another set of sealed polythene packet of Question Booklet and OMR Answer-Sheet.**

ध्यान दें : अनुदेशों का हिन्दी रूपांतर इस प्रश्न-पुस्तिका के प्रथम पृष्ठ पर छपा है।